



پیش دبستان و دبستان پژوهان

نام و نام خانوادگی دانش آموز: آموزگار: پایه:

درس: تاریخ:

(۱) جاهای خالی را کامل کنید.

عدد ۹۱ را می توان به صورت ده تایی و قسمت از ۱۰ قسمت مساوی بیان کرد.

۲۴ میلی متر یعنی سانتی متر و قسمت از قسمت مساوی.

(۲) نقطه ی داده شده را روی محور مشخص کنید.

• ۳ واحد و ۴ قسمت از ۵ قسمت مساوی.

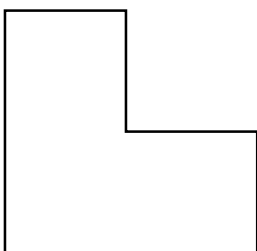
• ۲ واحد و ۱ قسمت از ۲ قسمت مساوی.

• ۳ قسمت از ۴ قسمت مساوی.

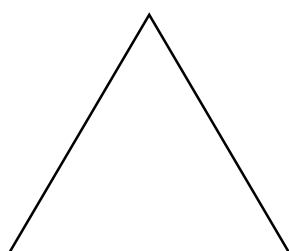
جزوه سیتی

(۳) با رسم برش های لازم، شکل ها را به قسمت های مساوی تقسیم کنید.

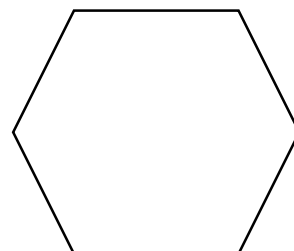
(تعداد قسمت های مساوی زیر هر شکل نوشته شده است.)




۳



۳



۴



۸

(۴) طول مداد علی ۱۵۳ میلی متر است. مداد رضا ۱۴ میلی متر بلندتر است. طول مداد این دو برادر روی هم چند

میلی متر است؟ (به روش تقریب حل کنید.)

۵) هادی یک دفتر نقاشی خرید که ۳۵ صفحه دارد. او ۲۰ صفحه ی آن را نقاشی کرده است. یعنی هادی
قسمت از قسمت مساوی دفتر خود را نقاشی کرده است.

۶) پیمان تا صفحه ی ۱۰۵ کتابش را خواند. اما ۲۸ صفحه به عقب رفت تا دوباره آن را بخواند.
الف) او از چه صفحه ای دوباره شروع به خواندن کرده است؟

ب) اگر او ۱۲۴ صفحه ی دیگر هم بخواند، روی هم چند صفحه خوانده است؟



۷) در شکل مقابل ساعت چند است؟

• اگر عقربه ی بزرگ ۱ قسمت از ۴ قسمت صفحه را بچرخد، چند دقیقه می گذرد؟


• ساعت چند می شود؟

۸) در یک جعبه ۱۸ تیله وجود دارد. ۵ تا از آن ها سبز، ۶ تا از آن ها زرد و بقیه قرمز است. جمله های زیر را کامل کنید.

- تیله از تیله سبز است.
- تیله از تیله زرد است.
- تیله از تیله قرمز است.

۹) در ساعت های زیر، قسمت های رنگ شده چه کسری از صفحه ی ساعت است؟

(عبارت کسر را به صورت کامل زیر هر ساعت بنویسید.)



۱۰) جمع و تفریق زیر را به روش تکنیکی به دست آورید.

جزوه سیتی

$$\begin{array}{r} 354 \\ + \\ \hline 278 \end{array}$$
$$\begin{array}{r} 800 \\ - \\ \hline 356 \end{array}$$

موفق و پیروز باشید.

یکه فلاح